



زمان آزمون (دقیقه): تستی: ۸۰ تشریحی: ۰

تعداد سوالات: تستی: ۴۰ تشریحی: ۰

درس: اقتصادبخش عمومی، اقتصادبخش عمومی ۲

رشته تحصیلی/کد درس: علوم اقتصادی (اقتصاد نظری) (۱۲۲۱۰۹۵ - علوم اقتصادی (نظری) چندبخشی ۲۵

استفاده از ماشین حساب ساده مجاز است

۱- اگر $b = 0.8$ و $t = 0.02$ باشد، اثر ۱۰۰۰ واحد افزایش در هزینه های مصرفی و ۱۰۰۰ واحد افزایش در هزینه های سرمایه گذاری دولت در درآمد ملی به ترتیب چه میزان است؟

- ۰.۱ ۳۷۰۳ و ۸۳۳۳
۰.۲ ۱۰۰۰ و ۱۰۰۰
۰.۳ ۴۵۹۶ و ۷۴۶۲
۰.۴ ۱۰۰۰ و صفر

۲- برای گروهی از مصرف کنندگان که مالیات می پردازند، تابع مصرف $y = a_2 + b_2[(1-\alpha)(1-t)]$ ، و برای گروهی دیگر که مالیات پرداخت نمیکنند $C = a_1 + b_1(\alpha y)$ ، تابع درآمد ملی به چه صورت خواهد بود؟

$$y = \frac{1}{1 - \alpha(b_1 - b_2) - b_2} [I + G] \quad .2$$

$$y = \frac{1}{1 - \alpha b_1(1-t) - b_2} [a_1 + a_2] \quad .1$$

$$y = \frac{1}{1 - \alpha(b_1 - b_2) - b_2(1-t)} [A + I + G] \quad .4$$

$$y = \frac{1}{1 - b_1 - b_2(1-t)} [a_1 + a_2 + I + G] \quad .3$$

۳- اگر نرخ تشکیل سرمایه برابر ۵ باشد، و نرخ رشد درآمد ملی ۳ درصد، برای نیل به نرخ رشد مطلوب، چند درصد درآمد ملی باید پس انداز شود؟

- ۰.۱ ۵ درصد
۰.۲ ۳ درصد
۰.۳ ۱۵ درصد
۰.۴ ۲ درصد

۴- اگر میل نهایی به پس انداز ۵ درصد، پس انداز لازم برای رسیدن به نرخ رشد مطلوب ۱۰ درصد درآمد ملی و دولت ۱۵ درصد درآمد ملی را به صورت هزینه مصرفی انجام دهد، برای رسیدن به نرخ رشد خالص ۲ درصد، دولت به طور متوسط چند درصد درآمد ملی را باید به صورت مالیات برداشت کند؟

- ۰.۱ ۰/۲۱
۰.۲ ۰/۱۲
۰.۳ ۰/۱۸
۰.۴ ۰/۴۵

۵- در شرایط تورمی با و در موقع رکود اقتصادی با میتوان با تغییر تقاضا اوضاع اقتصادی را بهبود بخشید.

- ۰.۱ کاهش مالیاتهای بر درآمد - افزایش مالیاتهای بر درآمد
۰.۲ افزایش مالیاتهای بر درآمد - کاهش مالیاتهای بر درآمد
۰.۳ افزایش مالیاتهای بر درآمد - افزایش مالیاتهای بر درآمد
۰.۴ کاهش مالیاتهای بر درآمد - کاهش مالیاتهای بر درآمد

۶- مالیات بر ارث از نوع مالیات بر.....، و مالیات بر دستمزد و حقوق از نوع مالیات بر..... است.

- ۰.۱ ذخیره دارایی - ذخیره دارایی
۰.۲ جریان درآمد - ذخیره دارایی
۰.۳ جریان درآمد - جریان درآمد
۰.۴ ذخیره دارایی - جریان درآمد



زمان آزمون (دقیقه): تستی: ۸۰ تشریحی: ۰

تعداد سوالات: تستی: ۴۰ تشریحی: ۰

درس: اقتصادبخش عمومی، اقتصادبخش عمومی ۲

رشته تحصیلی/کد درس: علوم اقتصادی (اقتصاد نظری) (۱۲۲۱۰۹۵ - علوم اقتصادی (نظری) چندبخشی ۲۵

۷- اگر درآمد کل شخصی برابر ۵ میلیون ریال و مالیات بر درآمد برابر ۲۰۰ هزار ریال باشد؛ نرخ متوسط مالیات چه میزان خواهد بود؟

- ۰.۱ ۴ درصد ۰.۲ ۵ درصد ۰.۳ ۱۰ درصد ۰.۴ ۱۲ درصد

۸- نرخ های متناسب مالیاتی باید چنان باشد که

- ۰.۱ نرخ نهایی مالیات صفر باشد
۰.۲ نرخ متوسط مالیات صفر باشد
۰.۳ نرخ متوسط و نهایی مالیات برابر باشند
۰.۴ بین نرخ نهایی و متوسط مالیات تفاوت ایجاد کند

۹- براساس اصل فایده

- ۰.۱ هرکس از مصرف کالاها فایده کمتری می برد، مالیات بیشتری پرداخت می کند
۰.۲ منبع درآمد دولت برای ارزیابی خدمات، با فایدهایی که شهروندان از دولت به دست می آورند مرتبط است
۰.۳ کسانی که از خدمات دولتی نیز استفاده نمی کنند باید مالیات بپردازند
۰.۴ هر کس مالیات بپردازد نیز میتواند از کالاها و خدمات استفاده کند.

۱۰- اشاره به این دارد، اشخاصی که توانایی پرداخت مساوی مالیاتی را ندارند، می باید مالیاتهای غیر برابری پرداخت کنند.

- ۰.۱ نابرابری افقی
۰.۲ برابری افقی
۰.۳ نابرابری عمودی
۰.۴ برابری عمودی

۱۱- بر اساس هر فرد زیان برابری را در مطلوبیت کل خود تجربه کند

- ۰.۱ برابری مطلق ایثار
۰.۲ برابری افقی ایثار
۰.۳ برابری نسبی ایثار
۰.۴ برابری عمودی ایثار

۱۲- بر اساس برابری نهایی ایثار

- ۰.۱ هر فرد مطلوبیت کل صفر را تجربه کند
۰.۲ هر فرد زیان برابری را در مطلوبیت متوسط خود تجربه کند
۰.۳ به صورتی مالیات از دو شخص دریافت شود که مطلوبیت نهایی درآمد پس از مالیات برای آنان صفر شود
۰.۴ به صورتی مالیات از دو شخص دریافت شود که مطلوبیت نهایی درآمد پس از مالیات برای آنان برابر شود



زمان آزمون (دقیقه): تستی: ۸۰ تشریحی: ۰

تعداد سوالات: تستی: ۴۰ تشریحی: ۰

درس: اقتصادبخش عمومی، اقتصادبخش عمومی ۲

رشته تحصیلی/کد درس: علوم اقتصادی (اقتصاد نظری) (۱۲۲۱۰۹۵ - علوم اقتصادی (نظری) چندبخشی ۲۵

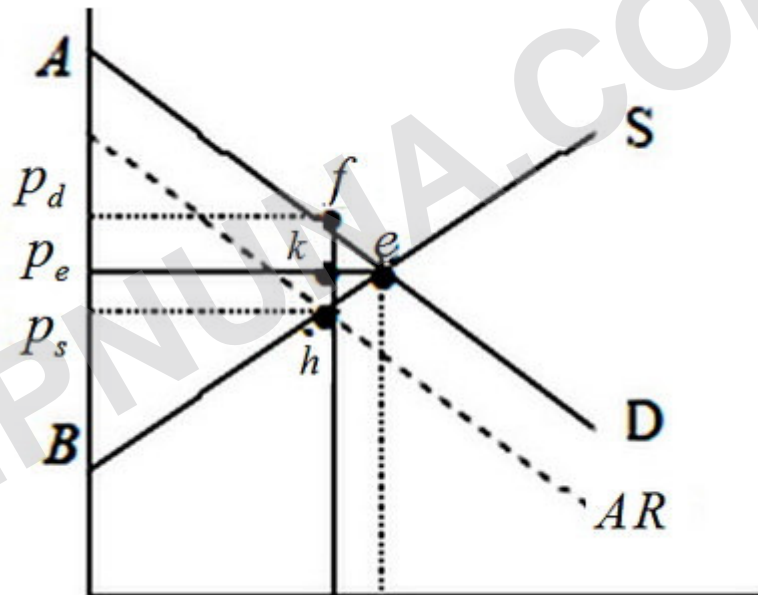
۱۳- مالیات بر درآمد از نوع مالیاتهای..... و مالیات بر مصرف از نوع مالیات های است.

- ۰۱ مستقیم- غیر مستقیم
۰۲ مستقیم- مستقیم
۰۳ غیر مستقیم- مستقیم
۰۴ غیر مستقیم- غیر مستقیم

۱۴- مالیات بر مصرف نسبت به مالیات بر درآمد به نفع..... عمل میکند.

- ۰۱ شرکتها
۰۲ پس انداز
۰۳ صادرات
۰۴ واردات

۱۵- با استفاده از اطلاعات شکل زیر، اضافه بار مالیاتی چه میزان است؟

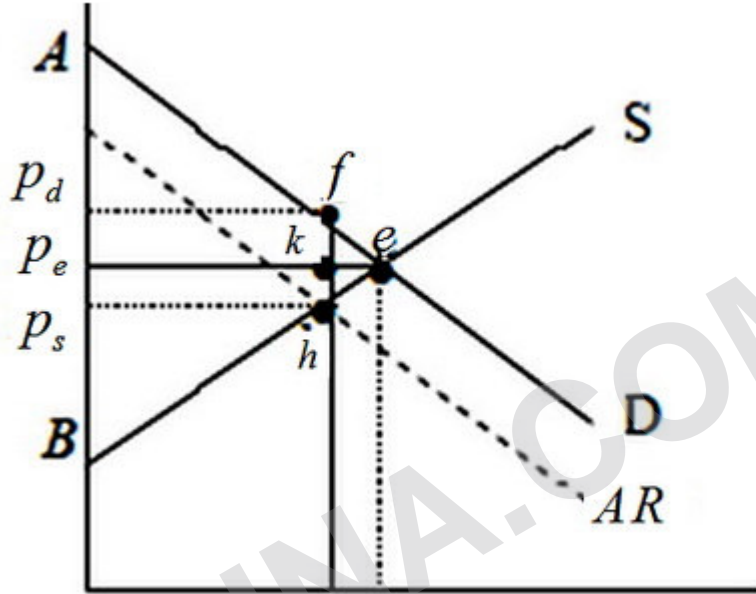


- ۰۱ ABe
۰۲ fhe
۰۳ kfe
۰۴ khe

۱۶- و از جمله عوامل موثر در فرار مالیاتی هستند.

- ۰۱ تعداد شاغلان دولتی - تعداد دانشجویان
۰۲ جمعیت - درآمدهای نفتی
۰۳ نرخ های بالای مالیاتی - عدم رعایت عدالت در قانون مالیاتی
۰۴ سطح بیکاری - سطح سرمایه گذاری

۱۷- با استفاده از اطلاعات شکل زیر، درآمد مالیاتی دولت چه میزان است؟



۰۴ $P_d P_s k h$

۰۳ $P_d P_s f k$

۰۲ $P_d P_s f e h$

۰۱ $P_d P_s h f$

۱۸- در حالت کاملاً بدون بی کشش بودن منحنی عرضه، صفر است و کل مالیاتها توسط پرداخت می شود.

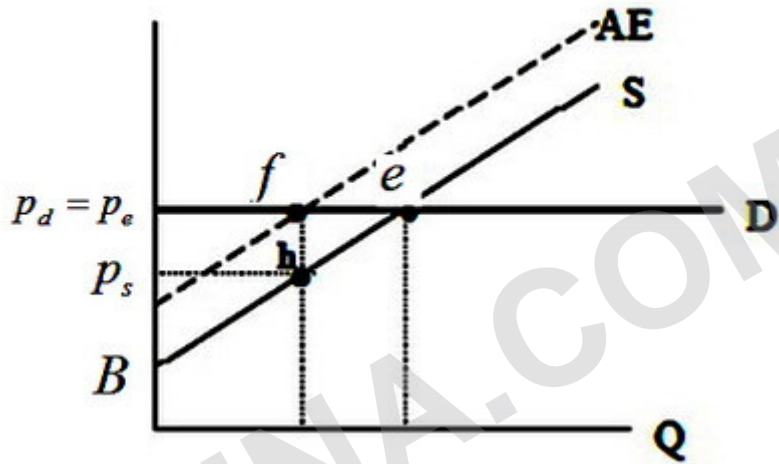
۰۲. مخارج مصرف کننده - عرضه کننده

۰۱. قیمت کالا - مصرف کنندگان

۰۴. بار مالیاتی - عرضه کننده

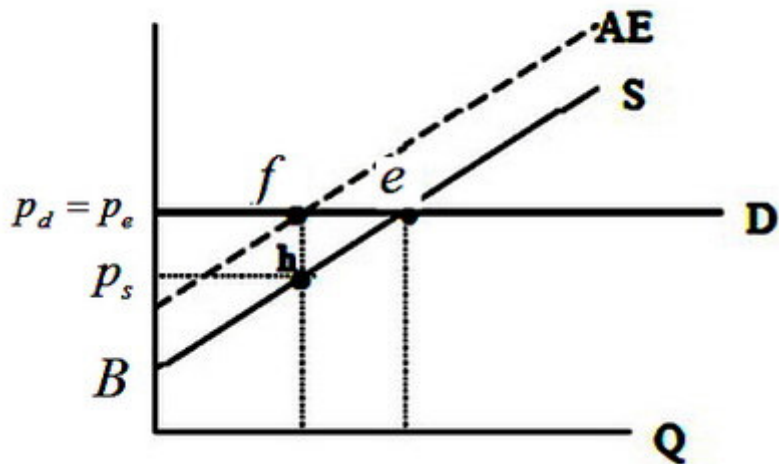
۰۳. درآمد فروشنده - عرضه کننده

۱۹- با استفاده از اطلاعات شکل زیر، با فرض وضع مالیات بر واحد در بازار رقابتی، چنانچه منحنی تقاضا کاملاً کشش پذیر باشد، سهم مالیات عرضه کنندگان چه میزان است؟



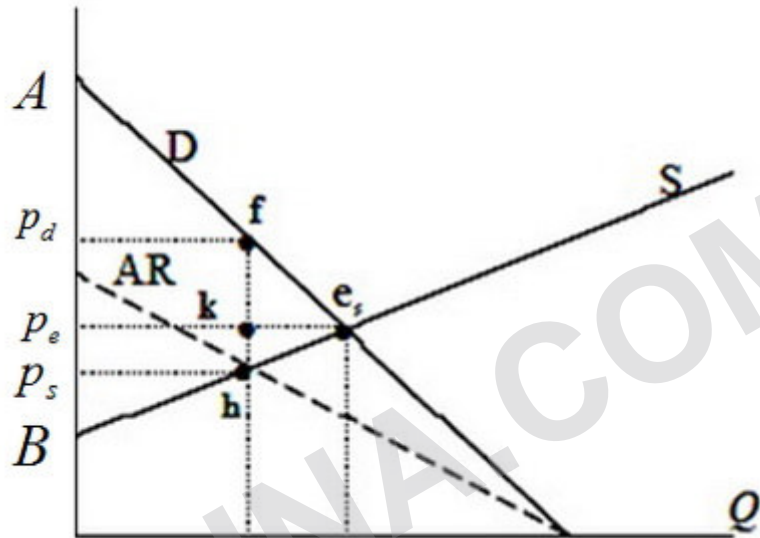
۱. $p_d f h p_s$ ۲. $p_d p_s e b$ ۳. $e f h$ ۴. $p_s h b$

۲۰- با استفاده از اطلاعات شکل زیر، با فرض وضع مالیات بر واحد در بازار رقابتی، درآمد مالیاتی دولت چه میزان است؟



۱. $p_d p_s h b$ ۲. $p_e p_s e f$ ۳. $p_e f h p_s$ ۴. $p_s h e p_d$

۲۱- با استفاده از اطلاعات شکل زیر، با فرض وضع مالیات بر قیمت در بازار رقابتی، اضافه رفاه مصرف کنندگان بعد از وضع مالیات چه میزان است؟



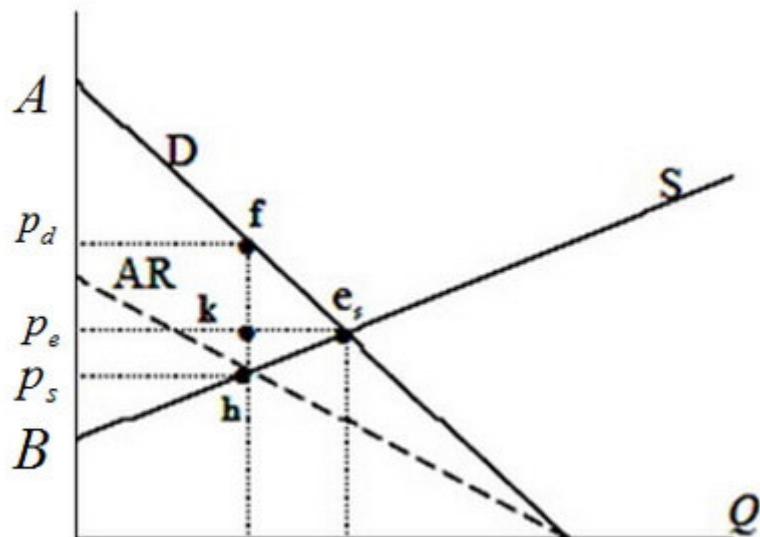
۴. $p_d f k p_e$

۳. $p_s h B$

۲. $A f p_d$

۱. $f k e$

۲۲- با استفاده از اطلاعات شکل زیر، با فرض وضع مالیات بر قیمت در بازار رقابتی، سهم مالیات مصرف کنندگان چه میزان است؟



۴. $p_d f k p_e$

۳. $p_d f e p_e$

۲. $p_s f e p_e$

۱. $f h e$



زمان آزمون (دقیقه): تستی: ۸۰ تشریحی: ۰

تعداد سوالات: تستی: ۴۰ تشریحی: ۰

درس: اقتصادبخش عمومی، اقتصادبخش عمومی ۲

رشته تحصیلی/کد درس: علوم اقتصادی (اقتصاد نظری) (۱۲۲۱۰۹۵ - علوم اقتصادی (نظری) چندبخشی ۲۵

۲۳- اگر تابع عرضه و تقاضای کالایی به صورت $D = a - bQ$ و $S = c + dQ$ باشد، و دولت سوبسید بر واحد معادل s بر کالا بدهد، مقدار تعادلی پس از سوبسید به چه صورت خواهد بود؟

$$Q = a - b \left[\frac{a - c + s}{d + b} \right] \quad .۲ \qquad Q = \frac{a + c - s}{d + b} \quad .۱$$

$$Q = c + d \left[\frac{a - c + s}{d + b} \right] \quad .۴ \qquad Q = \frac{a - c + s}{d + b} \quad .۳$$

۲۴- اگر تابع درآمد متوسط و هزینه متوسط کالایی در بازار انحصاری به صورت $AR = a - bQ$ و $AC = c + dQ$ باشد و دولت مالیات بر واحد معادل u بر کالا وضع کند، قیمت برای مصرف کنندگان به چه صورت خواهد بود؟

$$p_t = \frac{a - c - u}{2(b + d)} \quad .۲ \qquad p_t = a - b \left(\frac{a - c - u}{2(b + d)} \right) \quad .۱$$

$$p_t = \frac{a + c + u}{2(b + d)} \quad .۴ \qquad p_t = c + d \left(\frac{a - c - u}{2(b + d)} \right) \quad .۳$$

۲۵- در مالیات بر قیمت در بازار انحصاری، اضافه بار مالیاتی اضافه بار مالیاتی در شرایط رقابتی است و مقدار اضافه بار مالیاتی به بستگی دارد.

- ۰۱ برابر با- کشش منحنی تقاضا و منحنی هزینه نهایی
۰۲ بیشتر از- کشش منحنی تقاضا و منحنی هزینه نهایی
۰۳ کمتر از- کشش منحنی تقاضا و منحنی هزینه نهایی
۰۴ برابر با- کشش متقاطع تقاضا

۲۶- نرخ سوبسید بهینه در بازار انحصاری نرخی است که در آن

- ۰۱ هزینه نهایی صفر است
۰۲ فایده نهایی ماکزیمم است.
۰۳ هزینه نهایی و فایده نهایی برابر هستند
۰۴ سطح تولید انحصارگر را صفر کند.

۲۷- در بازار انحصاری، کدام نوع سوبسید بهتر عمل میکند؟

- ۰۱ سوبسید بر سود کل
۰۲ سوبسید بر هزینه کل
۰۳ سوبسید بر قیمت
۰۴ سوبسید بر واحد



زمان آزمون (دقیقه): تستی: ۸۰ تشریحی: ۰

تعداد سوالات: تستی: ۴۰ تشریحی: ۰

درس: اقتصادبخش عمومی، اقتصادبخش عمومی ۲

رشته تحصیلی/کد درس: علوم اقتصادی (اقتصاد نظری) (۱۲۲۱۰۹۵ - علوم اقتصادی (نظری) چندبخشی ۲۵

۲۸- اگر در بازار حداکثر کننده درآمد، درآمد متوسط خالص برابر $AR = a - bQ - \alpha p$ باشد، و $p = a - bQ$ ، α نرخ مالیات بر قیمت، در مورد سطح تولید پس از وضع مالیات چه می توان گفت؟

۱. سطح تولید پس از وضع مالیات بیشتر می شود
۲. سطح تولید پس از وضع مالیات کمتر می شود
۳. سطح تولید پس از وضع مالیات تغییر نمی کند.
۴. در مورد سطح تولید پس از وضع مالیات نمی توان اظهار نظر کرد

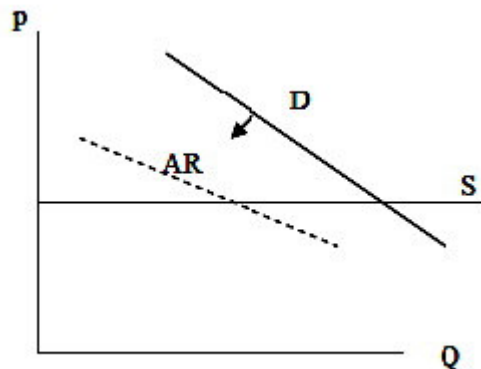
۲۹- بر اساس قاعده رمزی برای حداقل اضافه بار مالیاتی، مالیاتها

۱. براساس نسبت قیمت تقاضا برای کالاها باید برقرار شود
۲. براساس نسبت عکس کشش تقاضا برای کالاها باید برقرار شود
۳. براساس نسبت عکس کشش درآمدی تقاضا برای کالاها باید برقرار شود
۴. براساس نسبت عکس سطح مقدار تقاضا برای کالاها باید برقرار شود

۳۰- براساس نظر ماسگریو، نرخ موثر مالیات عبارتست از

۱. نرخ بازده قبل از مالیات
۲. نرخ بازده پس از مالیات
۳. نیمی از قیمت سرمایه
۴. درصد کاهش در بازده سرمایه به علت برقراری مالیات

۳۱- اگر عرضه ساختمان کاملا کشش پذیر باشد، براساس شکل زیر وضع مالیات بر قیمت بر ساختمان موجب چه چیزی می شود؟



۱. افزایش قیمت برای عرضه کننده میشود، اما قیمت برای مصرف کننده تغییر نمی کند
۲. قیمت برای مصرف کننده افزایش و قیمت برای عرضه کننده کاهش می یابد
۳. قیمت برای عرضه کننده تغییر نمی کند اما قیمت برای مصرف کننده افزایش می یابد.
۴. قیمت برای مصرف کننده و عرضه کننده کاهش می یابد.



زمان آزمون (دقیقه): تستی: ۸۰ تشریحی: ۰

تعداد سوالات: تستی: ۴۰ تشریحی: ۰

درس: اقتصادبخش عمومی، اقتصادبخش عمومی ۲

رشته تحصیلی/کد درس: علوم اقتصادی (اقتصاد نظری) (۱۲۲۱۰۹۵ - علوم اقتصادی (نظری) چندبخشی ۲۵

۳۲- اگر ارزش یک دارایی ۱۰۰ هزار ریال و عمر آن ۱۰ سال باشد، براساس روش نسبت مجموع سالها در سال اول چه مقدار از ارزش دارایی مستهلک می شود؟

۰.۴ $\frac{5}{15}$

۰.۳ $\frac{10}{55}$

۰.۲ $\frac{1}{15}$

۰.۱ $\frac{1}{55}$

۳۳- تصویب بودجه از وظایف کدامیک از قوای زیر است؟

۰.۲ قوه مقننه یا مجلس شورای اسلامی

۰.۱ دولت یا قوه مجریه

۰.۴ شورای اقتصاد

۰.۳ قوضه قضاییه

۳۴- تخصیص تمام یا قسمتی از اعتبار برای هزینه معین چه نام دارد؟

۰.۴ تامین اعتبار

۰.۳ تسجیل

۰.۲ تشخیص

۰.۱ تعهد

۳۵- بر اساس اصل در بودجه ریزی دولت، باید بودجه را به صورت مشروح و با جزئیات ان به مجلس پیشنهاد کند.

۰.۴ وحدت

۰.۳ تخصیص

۰.۲ تفصیل

۰.۱ کاملیت

۳۶- کدامیک از موارد زیر جزء درآمدهای دولت نبوده، بلکه روشی برای جبران کسری بودجه محسوب میشود؟

۰.۲ مالیاتها

۰.۱ قرضه

۰.۴ درآمد فروش نیشکر

۰.۳ درآمد حاصل از فروش نفت

۳۷- قرض از بانک مرکزی به وسیله انتشار اسکناس برای کسب درآمد یا جبران کسری بودجه، چه نام دارد؟

۰.۲ تامین مالی از طریق فروش طلا

۰.۱ تامین مالی از طریق تثبیت تورم

۰.۴ تامین مالی از طریق مالیات اضافی

۰.۳ تامین مالی از طریق تورم

۳۸- اولین نظریه منسجم از وقوع مالیاتی، متاثر از نظریه ایجاد درآمد بوده است.

۰.۴ فیزیوکراتها

۰.۳ اسمیت

۰.۲ نهایی گراها

۰.۱ کلاسیکها

۳۹- اگر بودجه دولت متعادل باشد، و تابع مصرف به صورت $C = 100 + 0.75Y$ ، $I = 200$ و $G = T = 150$ باشد، درآمد ملی تعادلی چه میزان خواهد بود؟

۰.۴ ۵۰۰

۰.۳ ۴۲۰۰

۰.۲ ۱۳۵۰

۰.۱ ۲۰۰۰



زمان آزمون (دقیقه): تستی: ۸۰ تشریحی: ۰

تعداد سوالات: تستی: ۴۰ تشریحی: ۰

درس: اقتصادبخش عمومی، اقتصادبخش عمومی ۲

رشته تحصیلی/کد درس: علوم اقتصادی (اقتصاد نظری) (۱۲۲۱۰۹۵ - علوم اقتصادی (نظری) چندبخشی ۲۵

۴۰- اگر ماليتها مقطوع باشد در شرایط بودجه متعادل:

۱. تغییر در هزینه های مصرفی و هزینه های سرمایه گذاری دولت هیچ تاثیری در درآمد ملی ندارد
۲. تغییر در هزینه های مصرفی دولت تاثیری در درآمد ملی ندارد ولی تغییر در هزینه های سرمایه گذاری آن بر درآمد ملی اثر می گذارد
۳. تغییر در هزینه های مصرفی دولت بر درآمد ملی اثر دارد ولی تغییر در هزینه های سرمایه گذاری آن بر درآمد ملی اثر ندارد
۴. تغییر در هزینه های مصرفی و نیز تغییر در هزینه های سرمایه گذاری آن بر درآمد ملی اثر دارد

WWW.PNUNA.COM