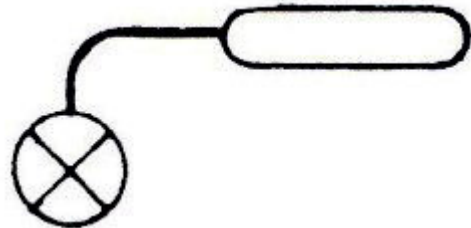
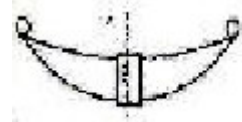
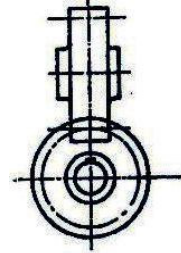
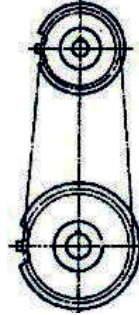
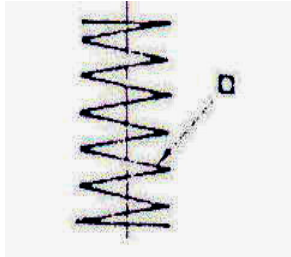




نمره ۴،۴۲

۱- هر کدام از شکل های زیر علامت اختصاری چه چیزی در نقشه کشی می باشد؟





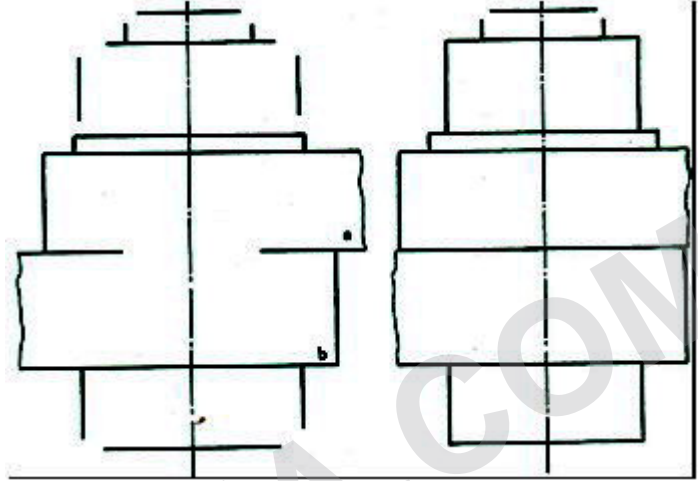
زمان آزمون (دقیقه): تستی: . تشریحی: .

تعداد سوالات: تستی: . تشریحی: ۴

درس: نقشه کشی تخصصی

رشته تحصیلی/کد درس: مهندسی مدیریت اجرایی (چندبخشی) ۱۳۱۱۰۳۴

۲- برای شکل زیر مطلوب است: الف) رسم برش تصویر قائم دو قطعه را که توسط یک پیچ شش گوش متصل شده اند ب) رسم برش تصویر جانب ج) رسم تصویر افق



نمره ۱.۸۴

۳- منظور از تلورانس در نقشه کشی چیست؟ با ذکر مثال توضیح دهید

نمره ۱.۸۵

۴- دو رابطه از مدول چرخ دنده بنویسید و اجزای رابطه را مشخص نمایید